



逢甲大學101學年度大學甄選入學招生【個人申請】考試試題

編號：001-1

科目	基本設計	適用系別	建築系	時間	4小時
----	------	------	-----	----	-----


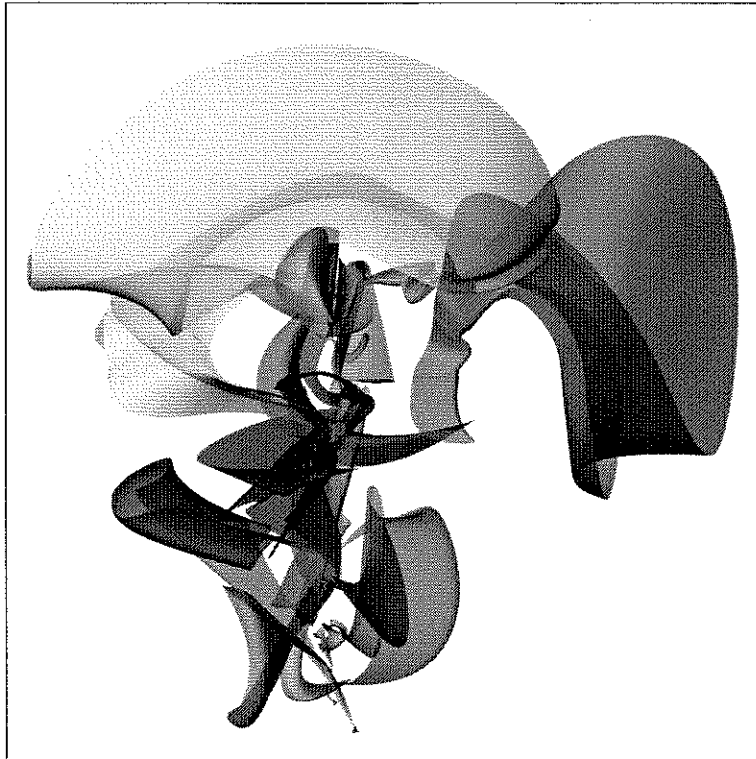
※ 請務必在答案卷作答區內作答 ※ 共 2 頁第 1 頁

- 一、下列給予兩張個圖形，請自行解碼圖形上的線索條件，拆解出其構成的幾何形式，再依拆解出的幾何元素，試發揮您的超級想像力，予以重新編碼創造出一件您想要表達的圖騰、語彙、物像、空間、或…之作品，將其繪於 36 公分× 64 公分的框格內，表現方式不拘並請輔以簡單的文字說明其主題與內容。(40%)



二、試由您周遭的生活環境中，舉出兩處您對建築造型或環境空間認為較有特色的畫面，將此兩處建築造型或空間場景畫面分別描繪於 18 公分x18 公分的框格內，並請輔以簡單的文字說明其內容與感想。(40%)

三、下列給予兩張個圖面，請自行選出一張您認為比較喜歡的一張圖面，再依您對選定的圖面觀察，試發揮您的超級聯想力，予以重新編碼創造出您想要表達的一件新作品，將其繪於 18 公分x18 公分的框格內，表現方式不拘並輔以簡單的文字說明其主題與內容。(20%)



註：請注意三個題目畫面的整體版面安排效果，未規定與說明處，請自行發揮與創作。